

Exercice 2

Une échelle simple AB , homogène, de longueur ℓ et de poids P est posée contre un mur et fait avec ce mur l'angle α (fig. 16). On suppose les contacts avec le mur et avec le sol **sans frottement**; l'échelle doit donc être maintenue en équilibre grâce à un fil f parallèle au sol et fixé au voisinage du point B .

Déterminer en fonction de P et de α :

- la tension T du fil;
- les réactions R_A et R_B qui s'exercent sur l'échelle en A et B .

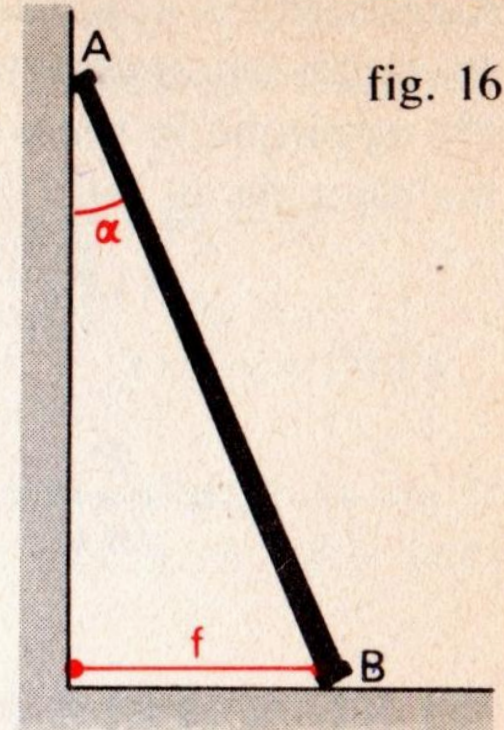


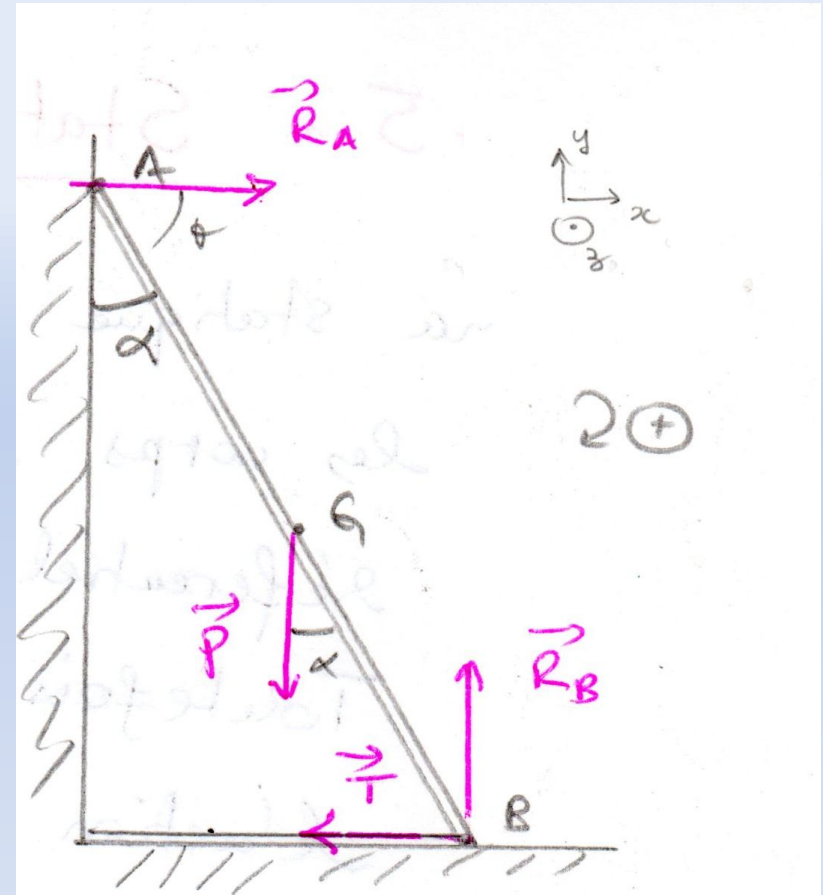
fig. 16

Solution - exercice 2

1- Détermination des forces

- **P** : le poids de l'échelle : support vertical
- A et B : appuis simples et les contacts sont sans frottement donc R_A et R_B sont perpendiculaire à la surface de contact
- **T** : la tension du fil : portée sur le fil

2- Détermination d'un repère et d'un sens positif de rotation



Solution - exercice 2

3- Pour que l'échelle soit en équilibre, on applique la lois de la statique, pour la **translation** et la **rotation**

- Condition d'équilibre de translation

$$\sum \vec{F}_{ext} = 0 \Rightarrow \sum \vec{F}_x = 0 \text{ et } \sum \vec{F}_y = 0$$

- Condition d'équilibre de rotation autour du point O

$$\sum M_o = 0$$

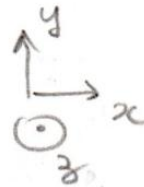
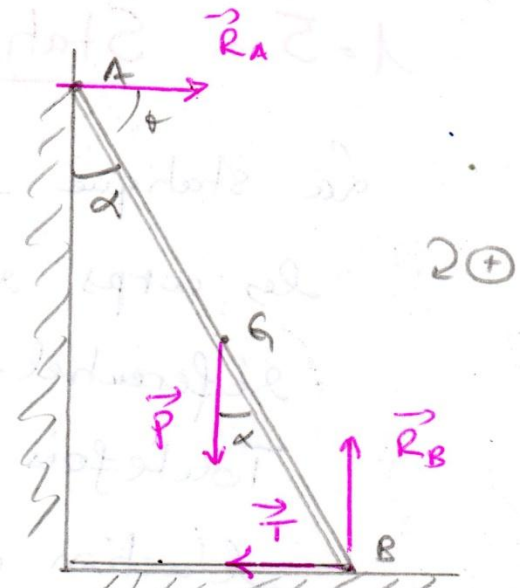
\vec{R}_A et $\vec{R}_B \perp$ surface de contact
car pas de frottement

Equilibre de translation :

$$\sum \vec{F}_{ext} = \vec{0} \Rightarrow \vec{P} + \vec{T} + \vec{R}_A + \vec{R}_B = \vec{0}$$

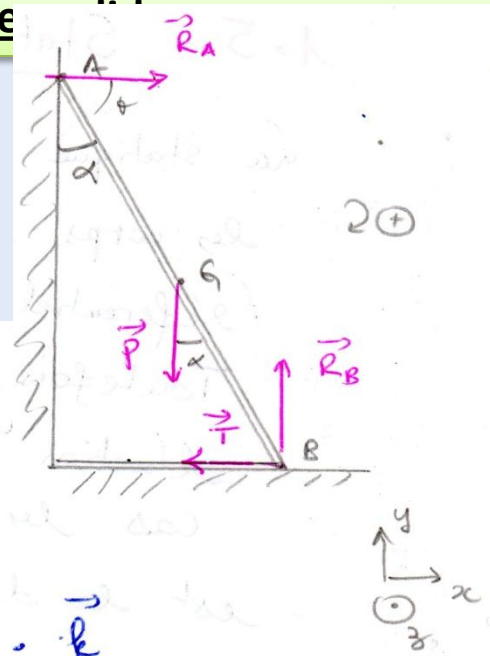
$$(ox) \dots \begin{cases} R_A - T = 0 \end{cases} \text{ équation (1)}$$

$$(oy) \dots \begin{cases} R_B - P = 0 \end{cases} \Rightarrow R_B = P \text{ équation (2)}$$



Solution - exercice 2

Equilibre de rotation :



$\sum \vec{M}_{/B} \vec{F}_{ext} = \vec{0}$, ou a: $\vec{M}_B(\vec{T}) = \vec{M}_B(\vec{R}_B) = \vec{0}$

donc $\vec{M}_B(\vec{P}) + \vec{M}_B(\vec{R}_A) = \vec{0}$

$\vec{M}_B \vec{P}_{/B} = \vec{BG} \wedge \vec{P} = - \frac{l}{2} \cdot P \cdot \sin \alpha \cdot \vec{k}$

$\vec{M}_B \vec{R}_A_{/B} = \vec{BA} \wedge \vec{R}_A = + l \cdot R_A \sin(\vec{BA}, \vec{R}_A) \cdot \vec{k}$

ou a: $(\vec{BA}, \vec{R}_A) = \theta = \pi/2 - \alpha$ or $\therefore \sin(\pi/2 - \alpha) = \cos \alpha$

donc $- \frac{l}{2} \cdot P \cdot \sin \alpha + l R_A \cos \alpha = 0$

équation (3) $\Rightarrow \frac{P}{2} \cdot \sin \alpha = R_A \cos \alpha \Rightarrow R_A = \frac{P}{2} \cdot \tan \alpha = T$

donc $R_A = T = \frac{P}{2} \tan \alpha$ et $R_B = P$